



Prueba de Evaluación de Bachillerato para el acceso a la Universidad de Extremadura Curso 2017-2018

Asignatura: GEOGRAFÍA

Tiempo máximo de la prueba: 1h.30 min.

El alumno deberá elegir una de las dos opciones completas de examen, sin posibilidad de que se puedan combinar preguntas de ambos.
La puntuación total de cada una de las opciones será de 10 puntos, pudiendo modificarse en un punto la calificación final por la presentación, ortografía y calidad de redacción, a juicio del corrector.

OPCIÓN A:

1.- RESPONDA A UNO DE LOS TEMAS SIGUIENTES:

A.- El roquedo peninsular y los tipos de relieve.

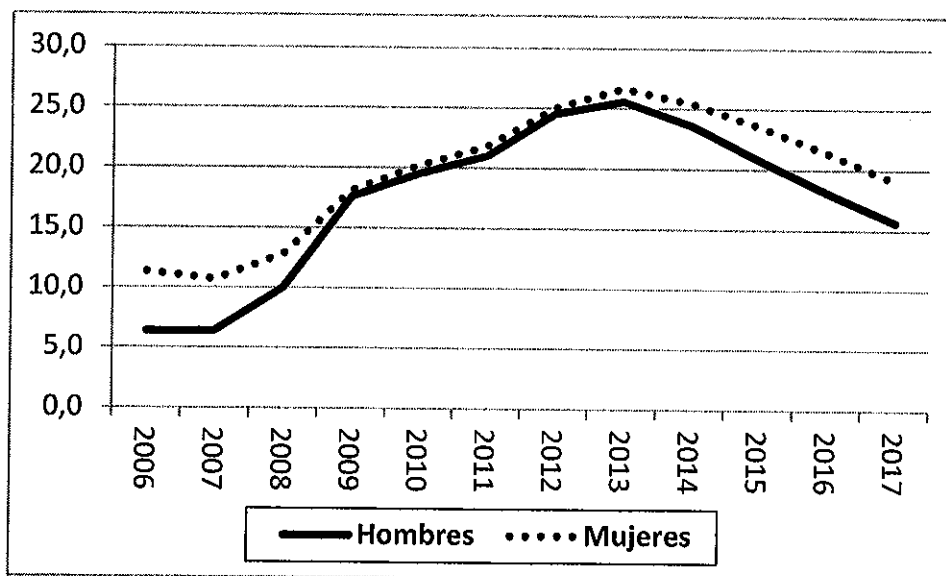
Defina los siguientes términos geográficos: Política Agraria Común (PAC), Emigración y Ensanche

B.- Los paisajes agrarios de España

Defina los siguientes términos geográficos: Anticiclón, Crecimiento Cero y Reconversión Industrial

Las respuestas se desarrollarán, como máximo, en dos caras de folio, y se valorará con 2,5 puntos. Cada uno de los términos geográficos se valorará con 0,5 puntos. El valor máximo de la pregunta es de 4 puntos

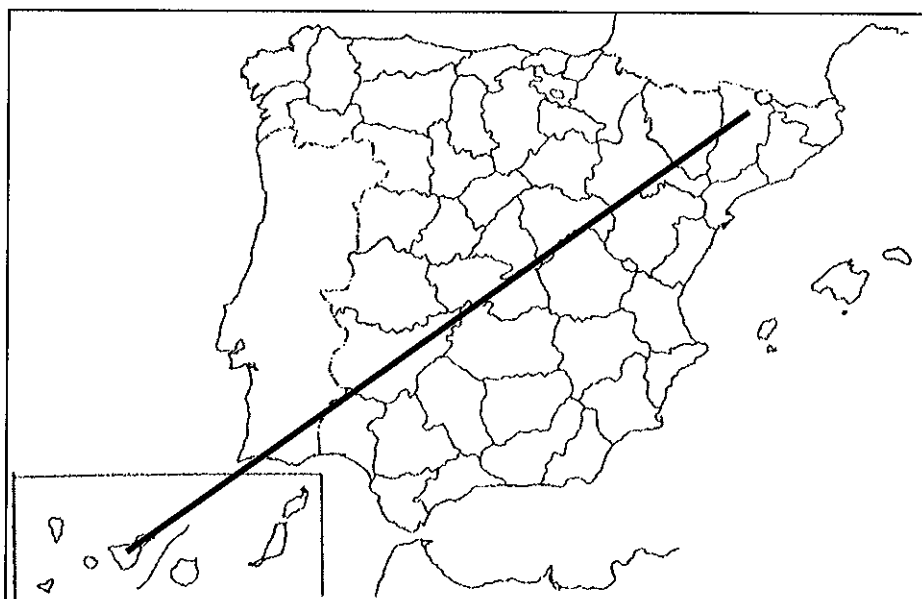
2.- A la vista del siguiente gráfico, donde se representa la evolución de la Tasa de Paro por sexos en España (%):



- a) Comente la evolución experimentada por dichas tasas en el período de referencia
- b) Realice una valoración de las causas que explican dicha evolución y las diferencias existentes entre los niveles de desempleo masculino y femenino.
- c) Defina los siguientes Términos Geográficos: **Ganadería Intensiva, Agroindustria y Policultivo**

La respuesta a la pregunta se desarrollará, como máximo, en dos caras de folio, y se valorará con 2,5 puntos. Cada uno de los términos geográficos se valorará con 0,5 puntos. El valor máximo de la pregunta es de 4 puntos

3.- En uno de los folios del examen, enumere –de NE a SO- las provincias e islas afectadas por la línea, desde el origen hasta el final de la misma, así como las unidades de relieve y los ríos principales.



Modelo de tabla para enumerar las respuestas a la pregunta:

Provincias	Unidades relieve	Ríos

La respuesta se valorará con un máximo de dos puntos

Prueba de Evaluación de Bachillerato para el acceso a la Universidad de Extremadura Curso 2017-2018

Asignatura: **GEOGRAFÍA**

Tiempo máximo de la prueba: 1h. 30 min.

El alumno deberá elegir una de las dos opciones completas de examen, sin posibilidad de que se puedan combinar preguntas de ambos.

La puntuación total de cada una de las opciones será de 10 puntos, pudiendo modificarse en un punto la calificación final por la presentación, ortografía y calidad de redacción, a juicio del corrector.

OPCIÓN B:

1.- RESPONDA A UNO DE LOS TEMAS SIGUIENTES:

A.- Principales situaciones y tipos de tiempo de verano en España.

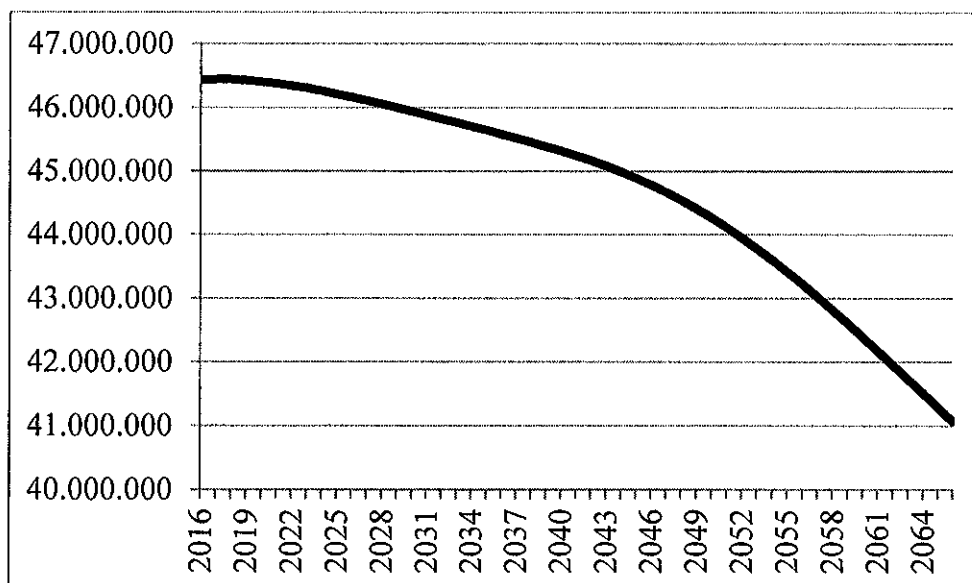
Defina los siguientes términos geográficos: **Delta, Penillanura y Páramo**

B.- El proceso de urbanización en España.

Defina los siguientes términos geográficos: **Crecimiento Vegetativo, Éxodo Rural y Generación Hueca**

Las respuestas se desarrollarán, como máximo, en dos caras de folio, y se valorará con 2,5 puntos. Cada uno de los términos geográficos se valorará con 0,5 puntos. El valor máximo de la pregunta es de 4 puntos

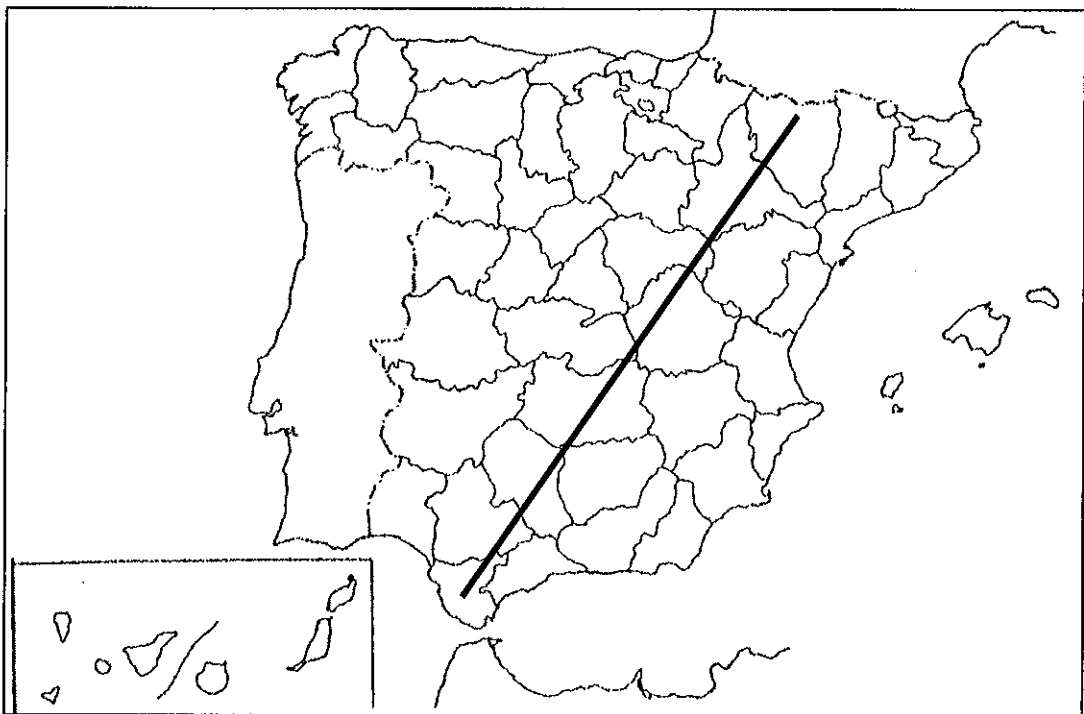
2.- A la vista del siguiente gráfico, donde se representa la proyección de la población española para el período 2016-2066, según el Instituto Nacional de Estadística:



- a) Describa la evolución previsible del número de habitantes
- b) Explique la influencia de las variables vegetativas y los movimientos migratorios en dicha evolución
- c) Defina los siguientes términos geográficos: **Barlovento, Landa y Efecto Invernadero**

La respuesta a la pregunta se desarrollará, como máximo, en dos caras de folio, y se valorará con 2,5 puntos. Cada uno de los términos geográficos se valorará con 0,5 puntos. El valor máximo de la pregunta es de 4 puntos

3.- En uno de los folios del examen, enumere –de NE a SO- las provincias afectadas por la línea, desde el origen hasta el final de la misma, así como las unidades de relieve y los ríos principales.



Modelo de tabla para enumerar las respuestas a la pregunta:

Provincias	Unidades relieve	Ríos

La respuesta se valorará con un máximo de dos puntos