

**Opción A**

El alumno deberá elegir una de las dos opciones completas de examen, sin posibilidad de que se puedan combinar preguntas de ambos.

La puntuación total de cada una de las opciones será de 10 puntos, pudiendo modificarse en un punto la calificación final por la presentación, ortografía y calidad de redacción, a juicio del corrector.

**1.- RESPONDA A UNO DE LOS TEMAS SIGUIENTES:**

**A.- Factores que influyen en la distribución de la vegetación natural.**

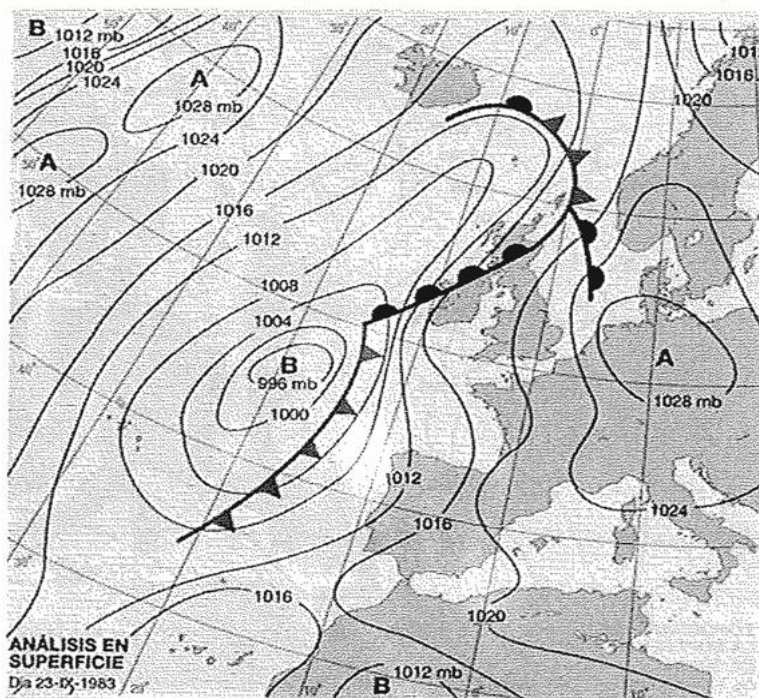
**B.- El sistema urbano español.**

*La respuesta se desarrollará en dos caras de folio, y se valorará con 3 puntos.*

**2.- OBSERVE ESTE MAPA DEL TIEMPO (23-IX-1983) Y RESPONDA LAS SIGUIENTES CUESTIONES:**

a) Indique y defina los distintos elementos que componen este mapa del tiempo.

b) Explique cuáles son las características más destacadas del tiempo que se registró en España según esta situación meteorológica y períodos del año en que suele presentarse.



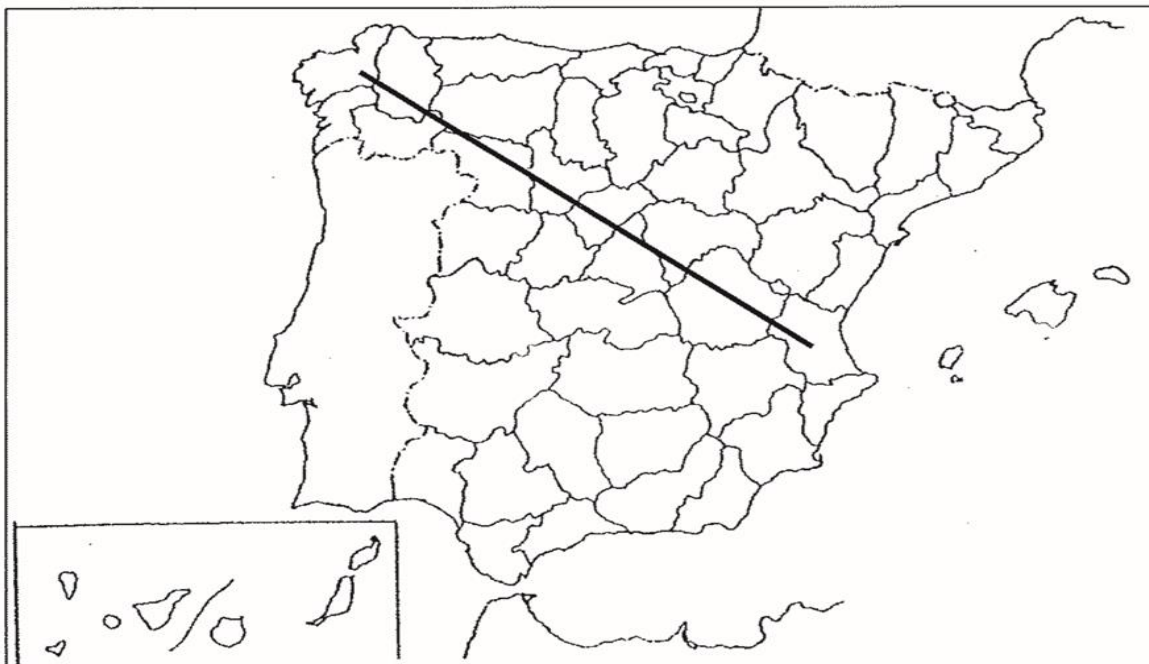
*El comentario se desarrollará en la cara de un folio y se valorará con 3 puntos.*

**3.- DEFINA BREVEMENTE LOS SIGUIENTES TÉRMINOS GEOGRÁFICOS:**

- Mapa Topográfico
- Estiaje
- Deforestación
- Tasa Bruta de Mortalidad
- Openfield (campos abiertos)

*Cada una de las respuestas se valorará con 0.4 puntos, hasta un total de 2 puntos.*

**4.- EN UNO DE LOS FOLIOS DEL EXAMEN, ENUMERE –DE NOROESTE A ESTE- LAS PROVINCIAS ATRAVESADAS POR LA LÍNEA, DESDE EL ORIGEN HASTA EL FINAL DE LA MISMA, ASÍ COMO LAS UNIDADES DE RELIEVE Y LOS RÍOS PRINCIPALES.**



Ejemplo:

Provincias	Unidades relieve	Ríos

*La respuesta se valorará con un máximo de 2 puntos.*

**Opción B**

El alumno deberá elegir una de las dos opciones completas de examen, sin posibilidad de que se puedan combinar preguntas de ambos.

La puntuación total de cada una de las opciones será de 10 puntos, pudiendo modificarse en un punto la calificación final por la presentación, ortografía y calidad de redacción, a juicio del corrector.

**1.- RESPONDA A UNO DE LOS TEMAS SIGUIENTES:**

**A.- Grandes conjuntos morfoestructurales del relieve español**

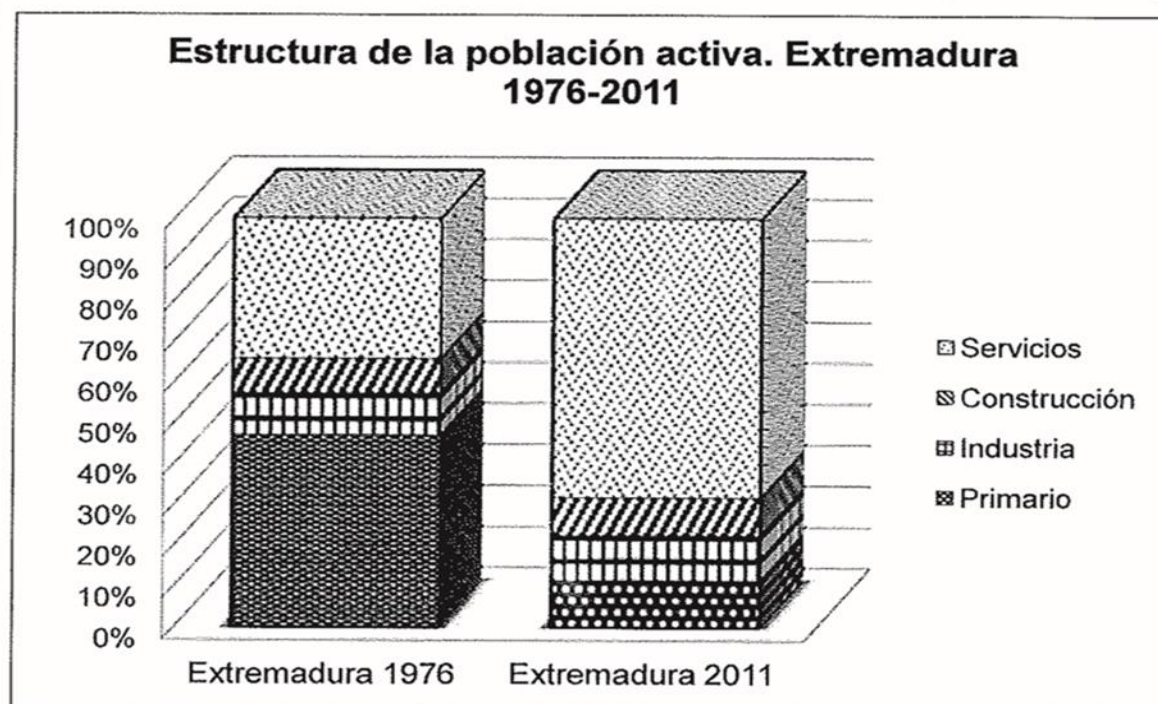
**B.- Los transportes.**

*La respuesta se desarrollará en dos caras de folio, y se valorará con 3 puntos.*

**2.- A LA VISTA DEL SIGUIENTE GRÁFICO SOBRE CAMBIOS EN LA ESTRUCTURA DE LA POBLACIÓN ACTIVA EN EXTREMADURA (1976-2011):**

**a) Indique las características generales de estos cambios**

**b) Explique los factores que han determinado estos cambios y los efectos que provocan.**



*El comentario se desarrollará en la cara de un folio y se valorará con 3 puntos.*

**3.- DEFINA BREVEMENTE LOS SIGUIENTES TÉRMINOS GEOGRÁFICOS:**

- Frente polar
- Cerro testigo
- Desertificación
- Agroindustria
- Éxodo rural

*Cada una de las respuestas se valorará con 0.4 puntos, hasta un total de 2 puntos.*

**4.- EN UNO DE LOS FOLIOS DEL EXAMEN, ENUMERE –DE SUR A NORTE- LAS PROVINCIAS ATRAVESADAS POR LA LÍNEA, DESDE EL ORIGEN HASTA EL FINAL DE LA MISMA, ASÍ COMO LAS UNIDADES DE RELIEVE Y LOS RÍOS PRINCIPALES.**



Ejemplo:

Provincias	Unidades relieve	Ríos

*La respuesta se valorará con un máximo de 2 puntos.*