



Prueba de Evaluación de Bachillerato para el Acceso a la Universidad de Extremadura Curso 2019-2020

Materia: GEOGRAFÍA

Tiempo máximo de la prueba: 1h 30 min

INSTRUCCIONES PARA REALIZAR EL EXAMEN:

El examen está estructurado en cuatro bloques de preguntas. El primero de ellos consta de cuatro preguntas sobre temas geográficos a desarrollar, de las cuales el estudiante ha de elegir una. La puntuación máxima será de 2,5 puntos.

En el segundo bloque se presentan dos ejercicios prácticos, de los que el alumno ha de seleccionar y comentar uno. La puntuación máxima es de 2,5 puntos.

El tercer bloque presenta dos grupos de términos geográficos. El alumno debe seleccionar uno de ellos (3 para definir y 3 para identificar). La puntuación máxima será de 3 puntos.

El cuarto bloque consta de dos pares de mapas. El alumno debe cumplimentar uno de estos pares (provincias y unidades de relieve o provincias y ríos). La puntuación máxima será de 2 puntos.

Es obligatorio responder a cuestiones de cada bloque para llegar a la puntuación máxima del examen (10).

Observación importante: en ningún caso se corregirá un número mayor de preguntas de las indicadas para cada bloque de preguntas. Para la corrección se seguirá el orden en el que las respuestas aparezcan desarrolladas por el estudiante (sólo si el estudiante ha tachado alguna de ellas, se entenderá que esa pregunta no debe ser corregida). En ese caso se le corregirá, además, aquella que ocupase el correspondiente y lógico lugar de la tachada, siempre y cuando pertenezca a su misma agrupación y en el orden de respuesta.

BLOQUE 1: TEMAS. (Puntuación máxima: 2,5 puntos)

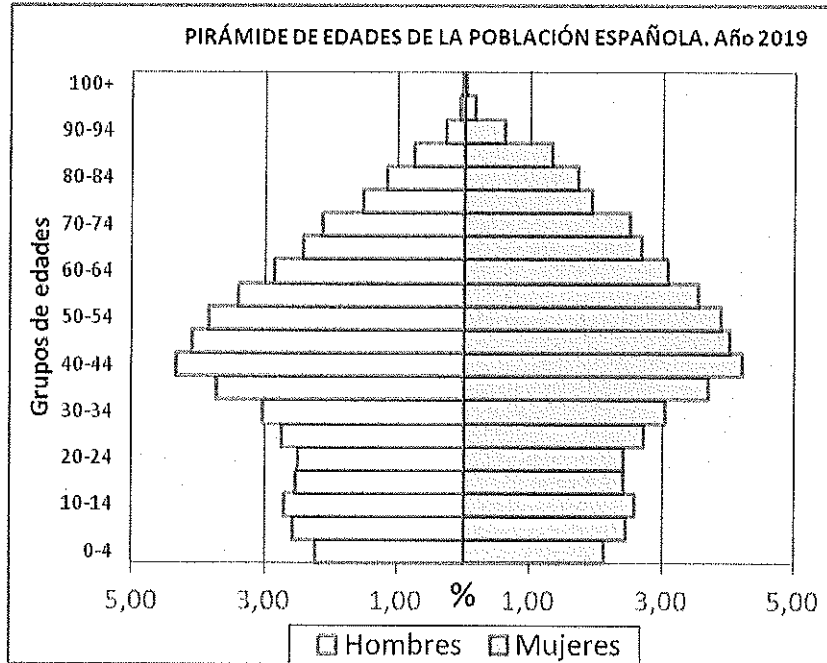
Pregunta 1. Responda a uno de los cuatro temas siguientes (redactando con orden, coherencia y claridad expositiva):

- a.- Tipos de clima en España
- b.- El medio natural como recurso
- c.- Los paisajes agrarios de España
- d.- Crisis y reconversión industrial (1975-1985)

BLOQUE 2: EJERCICIOS PRÁCTICOS: (Puntuación máxima: 2,5 puntos)

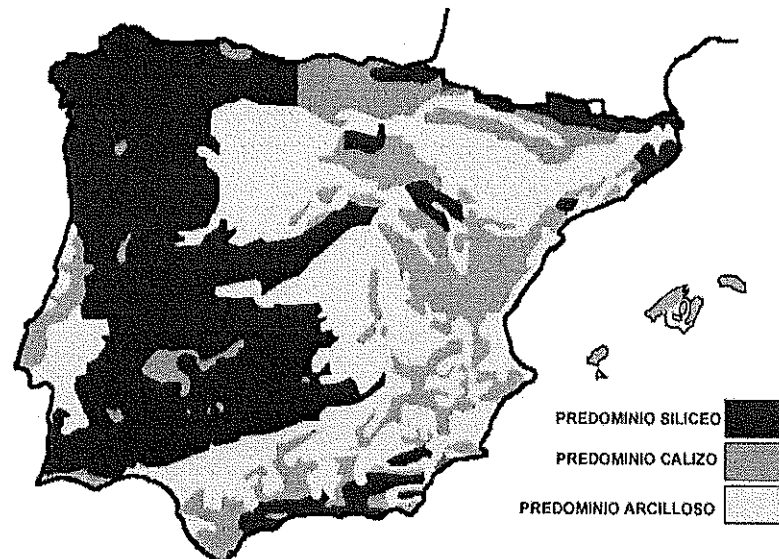
Pregunta 2. Comente uno de los dos gráficos siguientes:

1. A la vista de la siguiente pirámide de población española, correspondiente al año 2019:



- a) Indique qué tipo de estructura representa
- b) Señale cuáles son sus características generales atendiendo a la distribución por sexos y edades
(La respuesta válida se valorará con hasta 2,5 puntos)

2. A la vista del siguiente mapa litológico de España:



- a) Comente las principales características de esta distribución
- b) Haga un breve comentario acerca del relieve característico de cada uno de estos dominios litológicos

(La respuesta válida se valorará con hasta 2,5 puntos)

BLOQUE 3. TÉRMINOS GEOGRÁFICOS. Responda a uno de los dos ejercicios siguientes:

(Importante: todas las respuestas deben consignarse en el Cuadernillo del examen, identificadas con su número, aunque no necesariamente en orden)

Ejercicio 1

a.- Defina los siguientes conceptos geográficos:

- a.1) Relevo generacional
- a.2) Jerarquía urbana
- a.3) Minifundio

b.- Añada el término adecuado a cada una de las definiciones siguientes:

- b.1) Es una depresión formada por el hundimiento de los estratos rocosos comprendidos entre dos o más fallas paralelas.
- b.2) Término utilizado para designar los depósitos groseros integrados fundamentalmente por cantos de cuarcita, que se extiende en glaciares o recubren pedimentos al pie de las cordilleras. En Extremadura son características en la comarca de Las Villuercas.
- b.3) Proceso por el que una masa de agua, al recibir un exceso de componentes biológicos, experimenta el desarrollo masivo de productores primarios (algas) y consumidores de oxígeno, lo que provoca la muerte por asfixia de todos los seres vivos generando un proceso de putrefacción.

(Cada respuesta se valorará hasta 0,5 puntos, para un total de 3 puntos el global de la pregunta)

Ejercicio 2

a.- Defina los siguientes conceptos geográficos:

- a.1) Transición demográfica
- a.2) Conurbación
- a.3) Mancomunidad

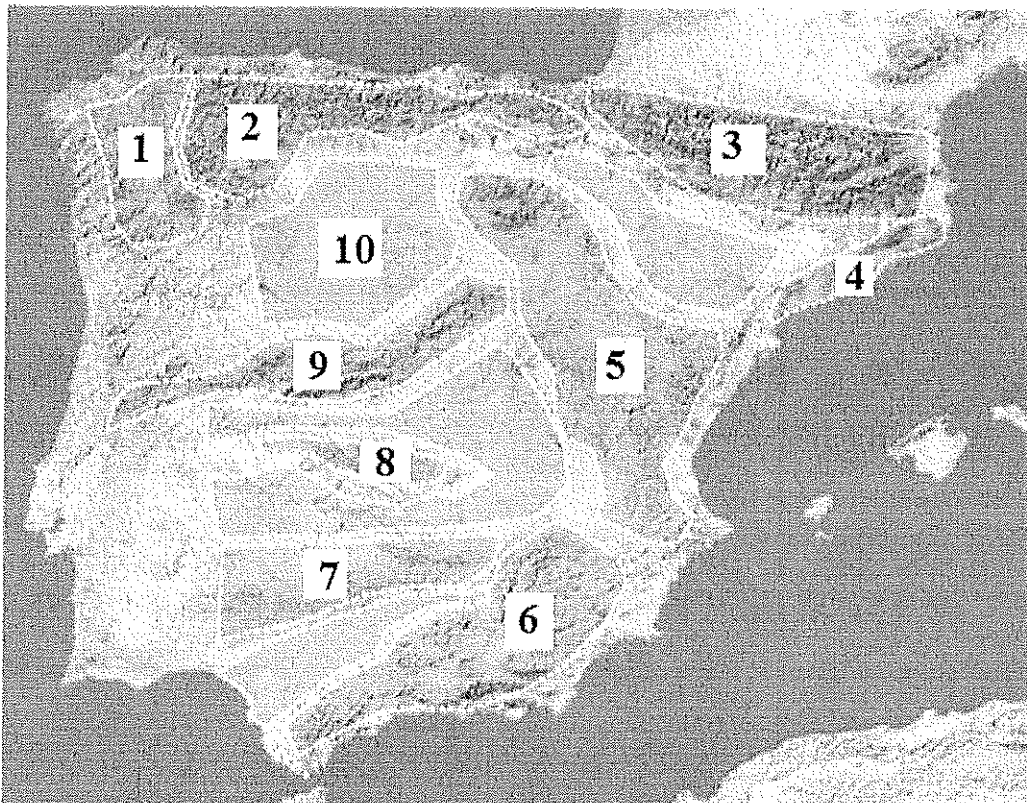
b.- Añada el término adecuado a cada una de las definiciones:

- b.1) Concepto acuñado a finales del siglo XX que hace referencia a la progresiva caída de fronteras entre países y, en definitiva, a la contracción del territorio, debido a la generalización en el uso de los medios de transporte de alta velocidad, así como la utilización de Internet.
- b.2) Denominación que reciben las industrias que están en plena expansión y crecimiento de su producción, como las relacionadas con la informática, telecomunicaciones y electrónica en general
- b.3) Entidad básica de la organización territorial del Estado. Políticamente, está regido por el Ayuntamiento.

(Cada respuesta se valorará hasta 0,5 puntos, para un total de 3 puntos el global de la pregunta)

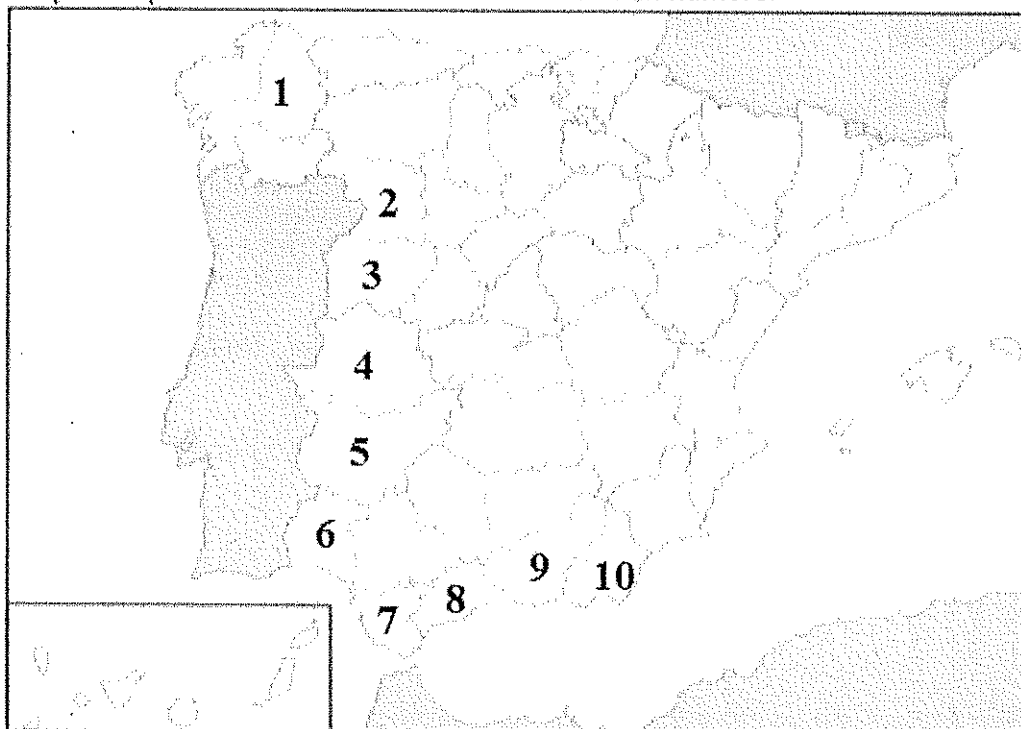
BLOQUE 4: MAPAS. Resuelva uno de los dos ejercicios siguientes:

Ejercicio 1. *En el siguiente mapa indique las UNIDADES DE RELIEVE señaladas con un número.*



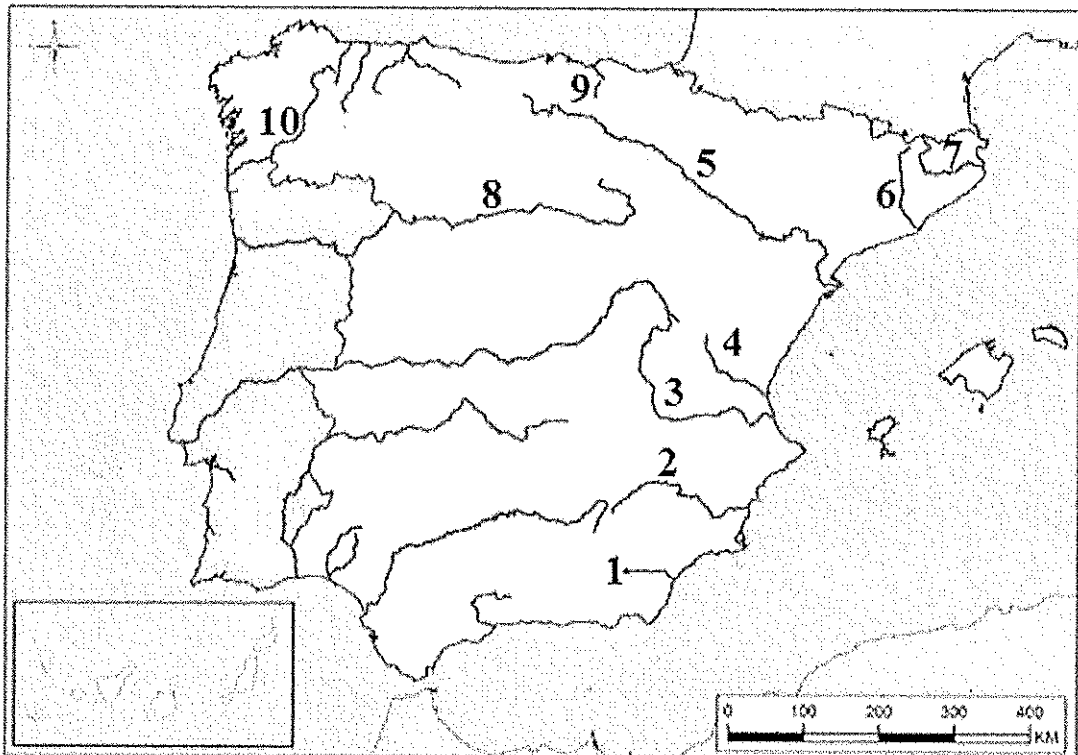
(Cada respuesta válida se valorará con 0,1 puntos, para un total de 1,0 puntos el global de la pregunta)

En el siguiente mapa indique las PROVINCIAS señaladas con un número.

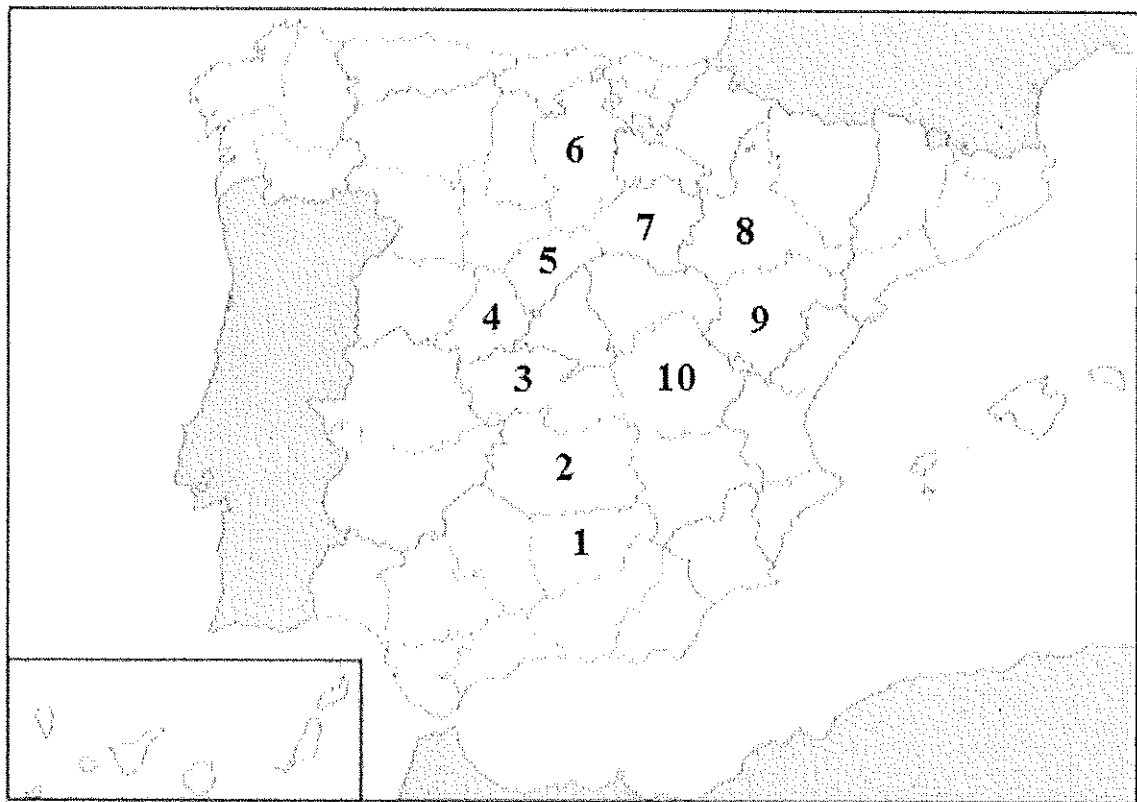


(Cada respuesta válida se valorará con 0,1 puntos, para un total de 1,0 puntos el global de la pregunta)

Ejercicio 2. En el siguiente mapa indique los RÍOS señalados con un número.



(Cada respuesta válida se valorará con 0,1 puntos, para un total de 1,0 puntos el global de la pregunta)



(Cada respuesta válida se valorará con 0,1 puntos, para un total de 1,0 puntos el global de la pregunta)