

Prueba de Evaluación de Bachillerato para el Acceso a la Universidad (EBAU)

Universidad de Extremadura
Curso 2022-2023

Materia: **GEOGRAFÍA**

Tiempo máximo de la prueba: 1h 30 min

INSTRUCCIONES PARA REALIZAR EL EXAMEN

El examen está estructurado en **cuatro bloques de preguntas**.

- El **primero** de ellos consta de dos preguntas sobre temas geográficos a desarrollar, de las cuales el estudiante ha de **elegir una**. La puntuación máxima será de **2,5 puntos**.

- En el **segundo** bloque se presentan dos ejercicios prácticos, de los que el estudiante ha de **seleccionar y comentar uno**. La puntuación máxima es de **2,5 puntos**.

- El **tercer** bloque presenta dos grupos de términos geográficos. El estudiante debe **seleccionar uno de ellos** (3 para definir y 3 para identificar). La puntuación máxima será de **3 puntos**.

- El **cuarto** bloque consta de dos pares de mapas. El estudiante debe **cumplimentar uno de estos pares de mapas** (provincias y unidades de relieve, o provincias y ríos). La puntuación máxima será de **2 puntos**.

Todas las preguntas han de ser respondidas en el cuadernillo del examen, identificando claramente cada una de ellas con su número, aunque no necesariamente en el mismo orden.

Es obligatorio responder a cuestiones de cada bloque para llegar a la puntuación máxima del examen (10).

Observación importante: en ningún caso se corregirá un número mayor de preguntas de las indicadas para cada bloque de preguntas. Para la corrección se seguirá el orden en el que las respuestas aparezcan desarrolladas por el estudiante. Solo si el estudiante ha tachado alguna de ellas, se entenderá que esa pregunta no debe ser corregida; en ese caso, se le corregirá aquella que ocupase el correspondiente y lógico lugar de la tachada, siempre y cuando pertenezca a su misma agrupación y en el orden de respuesta.

BLOQUE 1: TEMAS (Puntuación máxima: 2,5 puntos)

Responda a uno de los dos temas siguientes (redactando con orden, coherencia y claridad expositiva):

Pregunta 1.1. EVOLUCIÓN GEOLÓGICA DEL TERRITORIO ESPAÑOL. Fases que han intervenido en su formación y principales relieves y tipos de materiales de cada una de ellas.

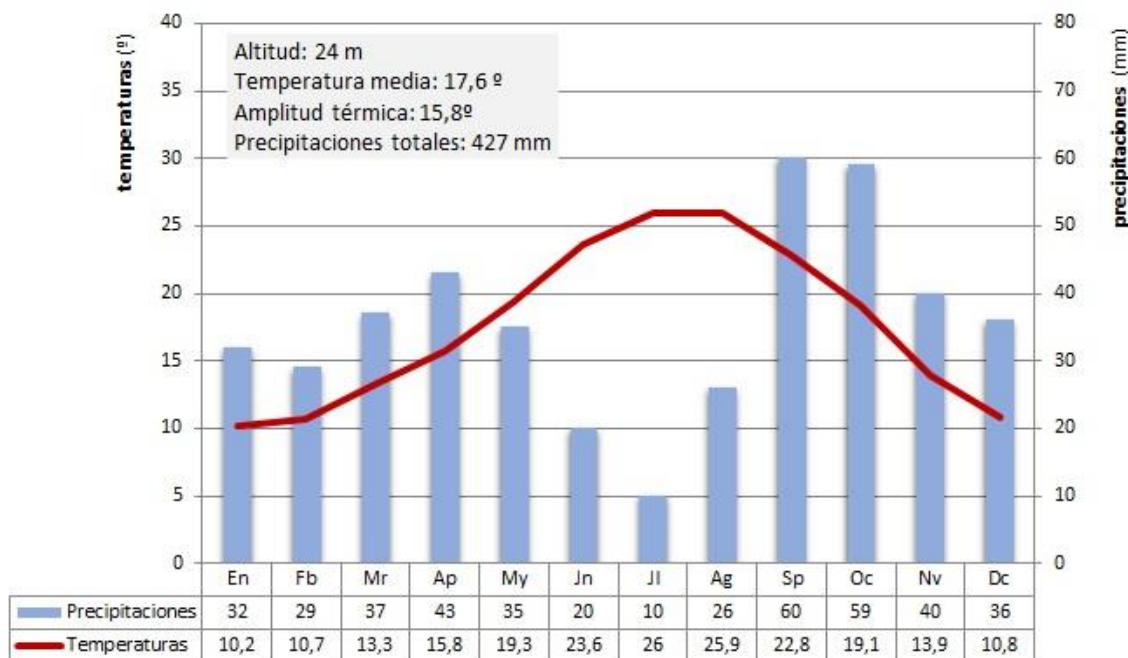
Pregunta 1.2. LAS ACTIVIDADES TURÍSTICAS. Características de la oferta turística española, tipos de turismo y su localización.

BLOQUE 2: EJERCICIOS PRÁCTICOS (Puntuación máxima: 2,5 puntos)

Comente uno de los gráficos propuestos a continuación:

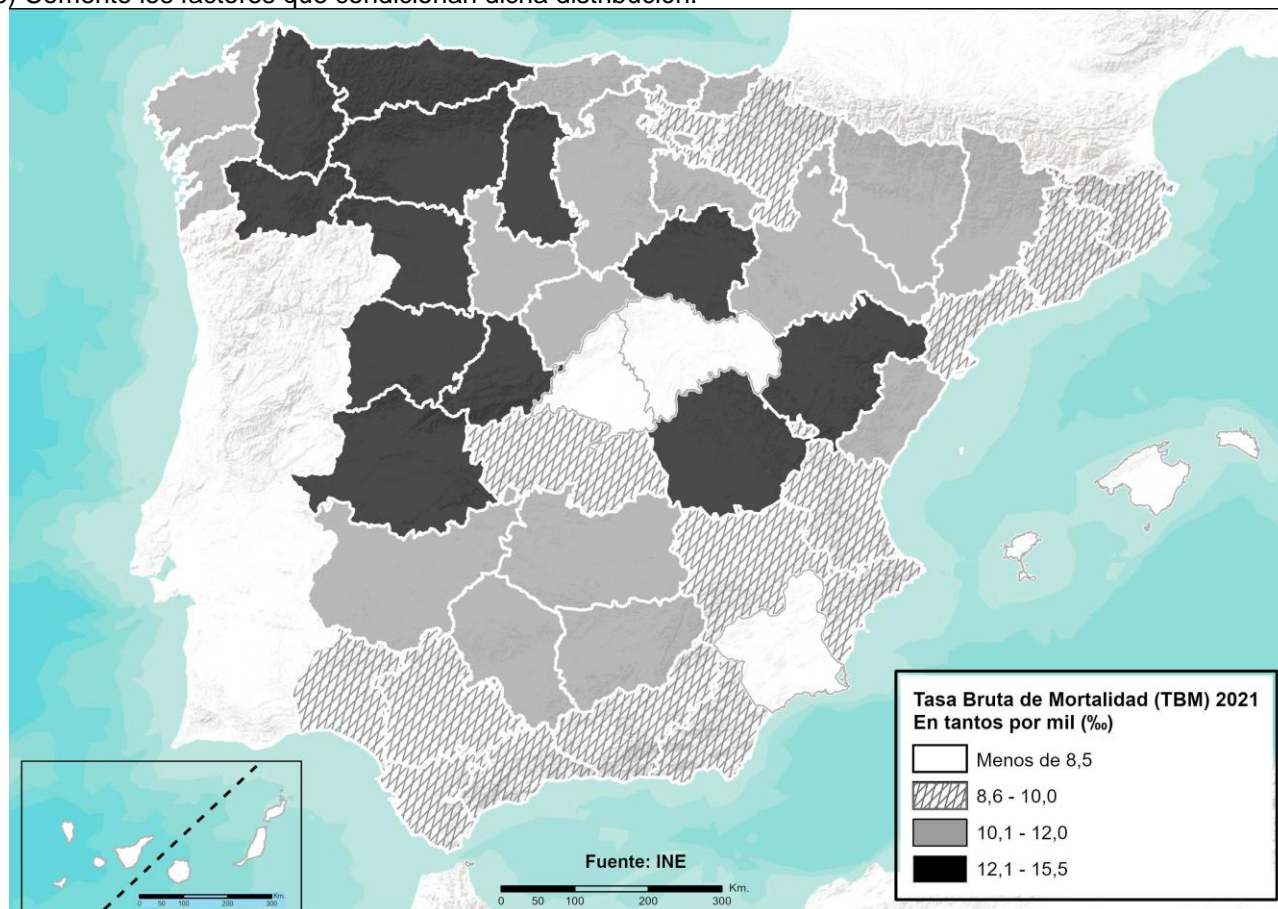
Ejercicio 2.1. Analiza y comenta el siguiente **climograma** (2,5 puntos):

- Realice un análisis de los elementos termo-pluviométricos representados.
- Explique los principales factores climáticos que influyen en el mismo. Indique qué tipo de clima se trata y sus características principales.



Ejercicio 2.2. A la vista del siguiente mapa de la **Tasa Bruta de Mortalidad por provincias en 2021** (2,5 puntos):

- a) Indique cómo se distribuye entre las distintas provincias.
- b) Comente los factores que condicionan dicha distribución.



BLOQUE 3: TÉRMINOS GEOGRÁFICOS. Responda a uno de los dos ejercicios siguientes (Puntuación máxima: 3 puntos)

Ejercicio 3.1

a.- Defina los siguientes conceptos geográficos (1,5 puntos):

- a.1) Traslado
- a.2) Agricultura Extensiva
- a.3) Densidad de población

b.- Identifique el término adecuado a cada una de las definiciones (1,5 puntos):

- b.1) Depósito de acumulación aluvial con forma de abanico, localizado en la desembocadura de un río.
- b.2) Conjunto de industrias vinculadas a la agricultura.
- b.3) Suma de todos los bienes y servicios producidos en un país durante un tiempo determinado, generalmente un año.

Ejercicio 3.2

a.- Defina los siguientes conceptos geográficos (1,5 puntos):

- a.1) Bosque caducifolio
- a.2) Sector Terciario
- a.3) Inmigración

b.- Identifique el término adecuado a cada una de las definiciones (1,5 puntos):

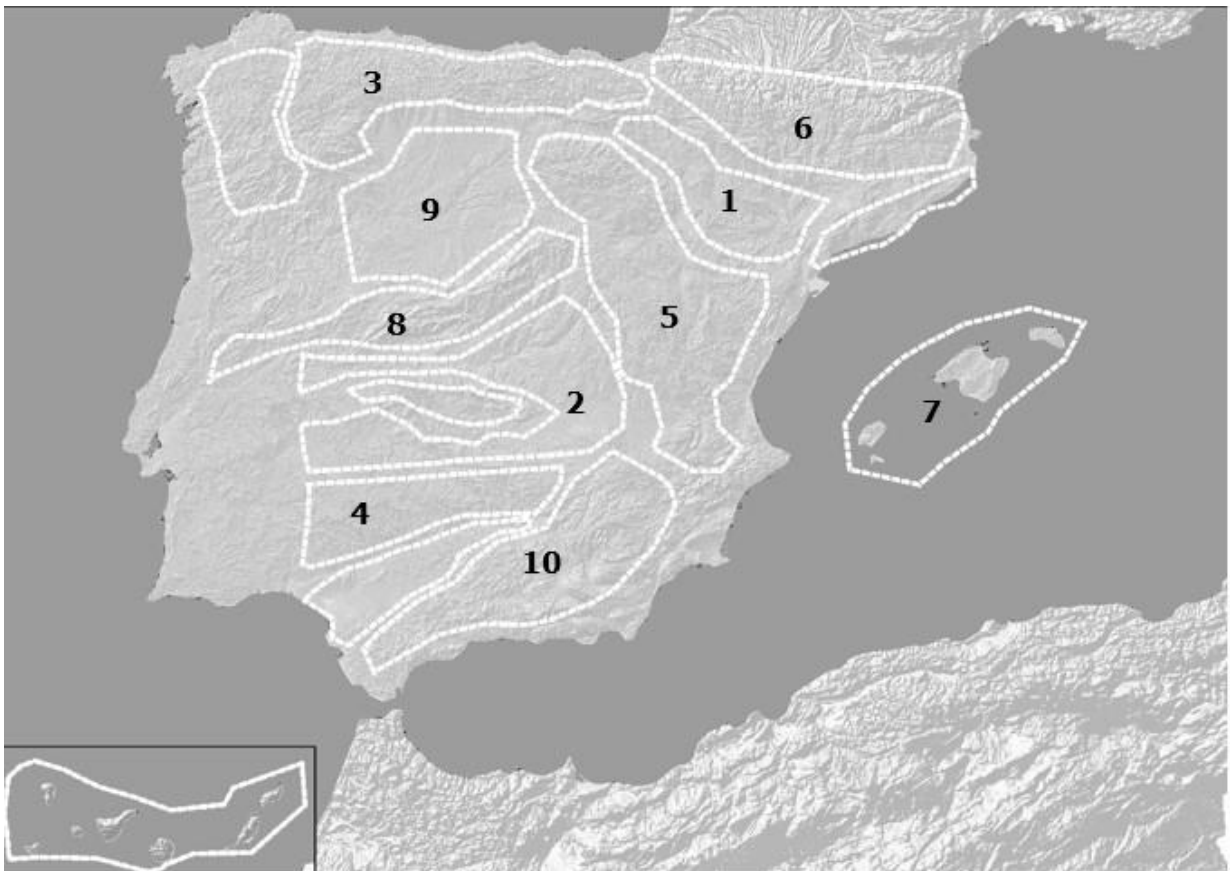
- b.1) Proceso de modelado de la superficie terrestre provocado por agentes externos como el agua, el viento, el hielo, las plantas o los seres humanos entre otros.
- b.2) Sistema que obtiene elevados rendimientos y requiere una importante inversión de capital, pues utiliza la selección de razas y técnicas modernas. El ganado permanece estabulado en granjas durante todo su ciclo vital, y se alimenta con piensos.
- b.3) Resulta de dividir la renta nacional disponible entre el número de habitantes de dicha nación.

BLOQUE 4: MAPAS. Resuelva uno de los dos ejercicios propuestos (Puntuación máxima: 2 puntos)

Ejercicio 4.a: Identifique las diez provincias señaladas en el mapa (1 punto).



- Identifique las diez unidades de relieve señaladas en el mapa (1 punto).



Ejercicio 4.b: Identifique las diez provincias señaladas en el mapa (1 punto).



- Identifique los diez ríos señalados en el mapa (1 punto).

