

Asignatura: **GEOGRAFÍA**

Tiempo máximo de la prueba: 1h. 30 min.

El alumno deberá elegir una de las dos opciones completas de examen, sin posibilidad de que se puedan combinar preguntas de ambos.

La puntuación total de cada una de las opciones será de 10 puntos, pudiendo modificarse en un punto la calificación final por la presentación, ortografía y calidad de redacción, a juicio del corrector.

OPCIÓN A:

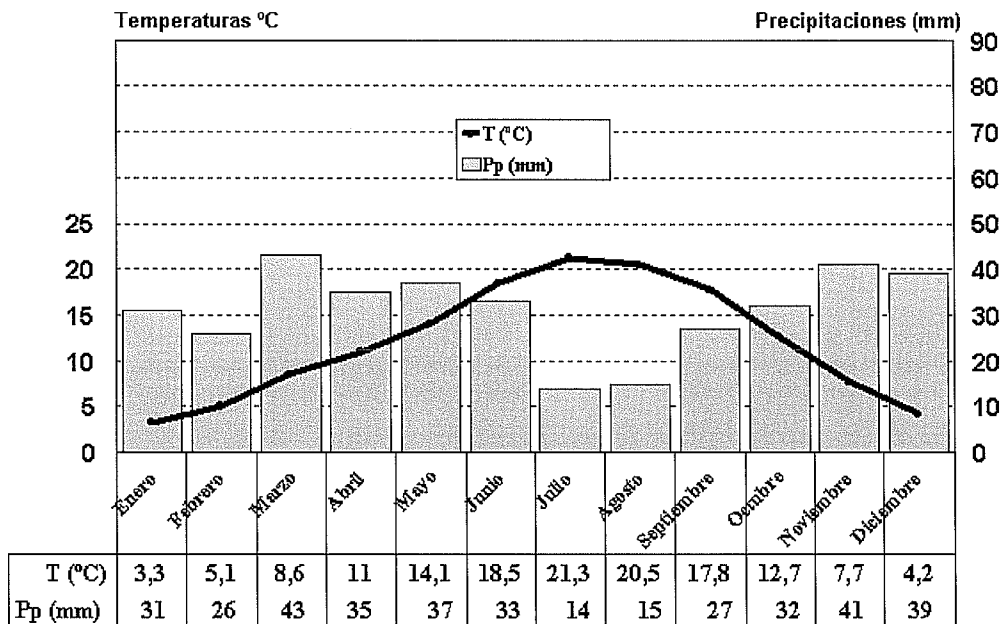
1.- RESPONDA A UNO DE LOS TEMAS SIGUIENTES:

A.- Factores que influyen en la distribución de la vegetación natural.

B.- Crisis y reconversión industrial (1975-1985).

La respuesta se desarrollará, como máximo, en dos caras de folio, y se valorará con tres puntos.

2.- A LA VISTA DEL SIGUIENTE CLIMOGRAMA:



Asignatura: **GEOGRAFÍA**

Tiempo máximo de la prueba: 1h. 30 min.

a) Indica las características generales de este clima.

b) Explica los factores que lo condicionan e intenta localizarlo espacialmente.

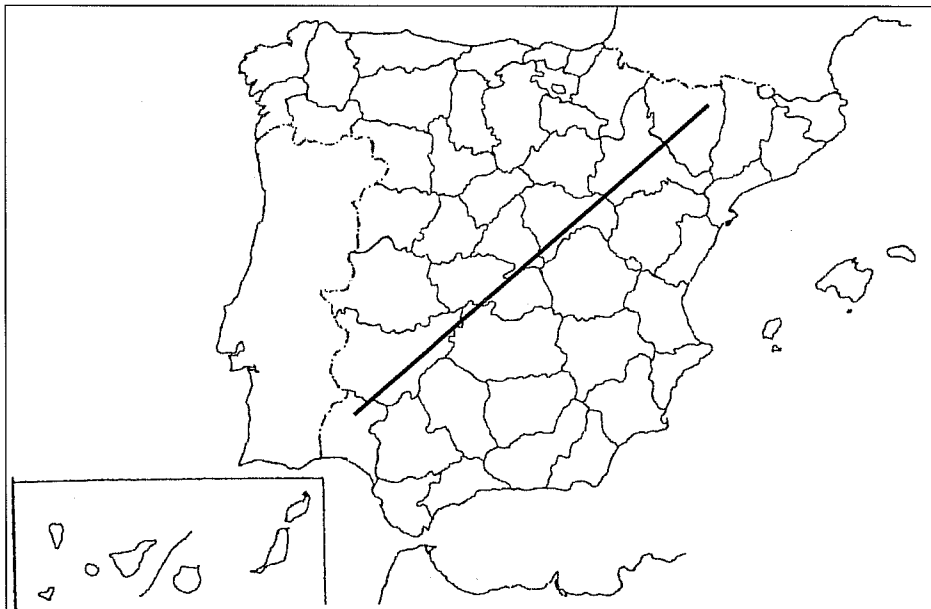
El comentario se desarrollará en la cara de un folio y se valorará con tres puntos.

3.- DEFINA BREVEMENTE LOS SIGUIENTES TÉRMINOS GEOGRÁFICOS Y PONGA ALGÚN EJEMPLO EN RELACIÓN CON ELLOS:

- Cerro testigo
- Vulcanismo
- Escorrentía
- Crecimiento cero
- Desarrollo endógeno

Cada una de las respuestas se valorará con 0.4 puntos, hasta un total de dos puntos.

4.- EN UNO DE LOS FOLIOS DEL EXAMEN, RELACIONE – DE NE A SO- LAS PROVINCIAS ATRAVESADAS POR LA LÍNEA, ASÍ COMO LOS SISTEMAS MONTAÑOSOS Y LOS RÍOS PRINCIPALES.



La respuesta se valorará con un máximo de dos puntos.

Asignatura: **GEOGRAFÍA**

Tiempo máximo de la prueba: 1h. 30 min.

El alumno deberá elegir una de las dos opciones completas de examen, sin posibilidad de que se puedan combinar preguntas de ambos.

La puntuación total de cada una de las opciones será de 10 puntos, pudiendo modificarse en un punto la calificación final por la presentación, ortografía y calidad de redacción, a juicio del corrector.

OPCIÓN B:

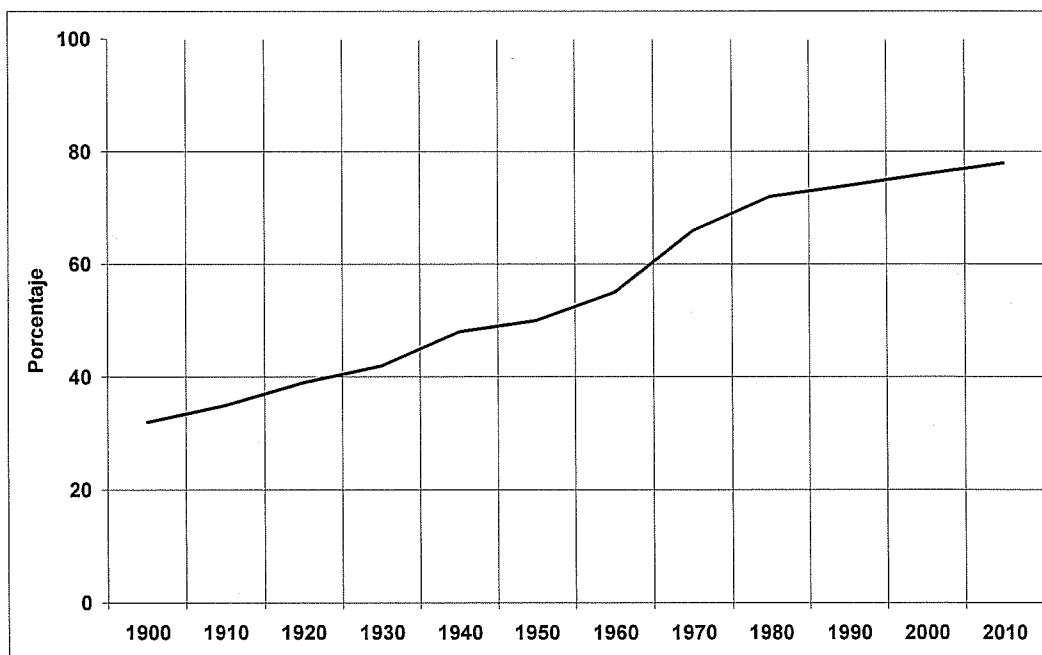
1.- RESPONDA A UNO DE LOS TEMAS SIGUIENTES:

A.- Características generales del relieve español.

B.- El turismo en España.

La respuesta se desarrollará, como máximo, en dos caras de folio, y se valorará con tres puntos.

2.- A LA VISTA DEL SIGUIENTE GRÁFICO SOBRE LA EVOLUCIÓN PORCENTUAL DE LA POBLACIÓN URBANA EN ESPAÑA:



Asignatura: **GEOGRAFÍA**

Tiempo máximo de la prueba: 1h. 30 min.

- a) Señala las características de esta evolución.
b) Comenta los factores que han influido en dicha evolución.

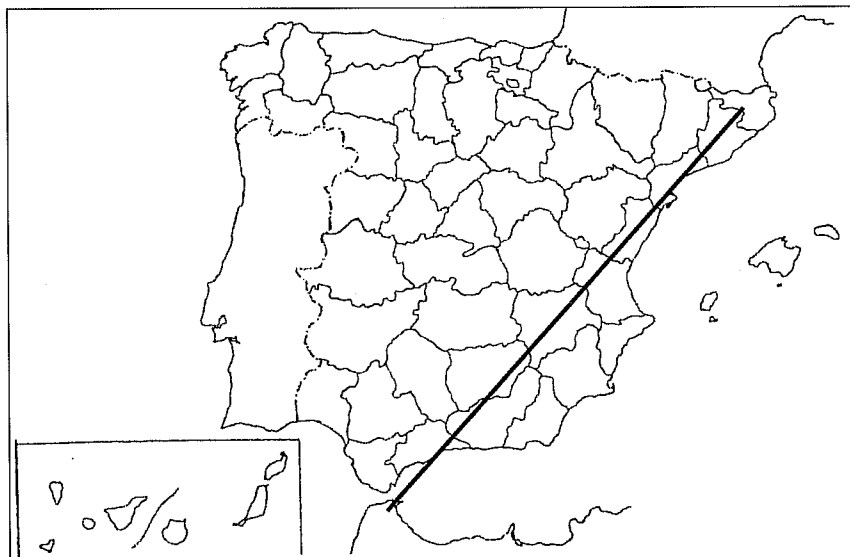
El comentario se desarrollará en la cara de un folio y se valorará con tres puntos.

3.- DEFINA BREVEMENTE LOS SIGUIENTES TÉRMINOS GEOGRÁFICOS Y PONGA ALGÚN EJEMPLO EN RELACIÓN CON ELLOS:

- Sistema de Información Geográfica (SIG)
- Fosa tectónica
- Borrasca
- Biodiversidad
- Dehesa

Cada una de las respuestas se valorará con 0.4 puntos, hasta un total de dos puntos.

4.- EN UNO DE LOS FOLIOS DEL EXAMEN, RELACIONE – DE NE A SO- LAS PROVINCIAS ATRAVESADAS POR LA LÍNEA, ASÍ COMO LOS SISTEMAS MONTAÑOSOS Y LOS RÍOS PRINCIPALES.



La respuesta se valorará con un máximo de dos puntos.