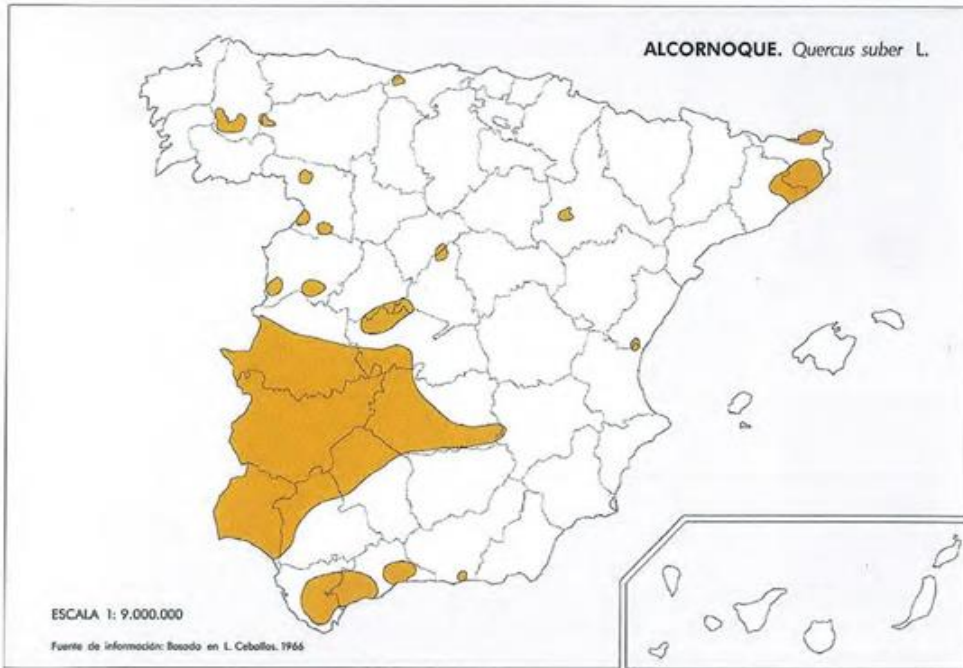


PRACTICAS VEGETACIÓN.

El mapa representa la distribución del alcornoque en la Península Ibérica. Analicelo y responda a las siguientes preguntas:

- Diga el nombre de las provincias afectadas por la mancha más grande del mapa.
- ¿Qué relación existe entre esta distribución y el medio natural de la zona afectada.
- Explique qué actividades económicas están relacionadas con esta especie vegetal.



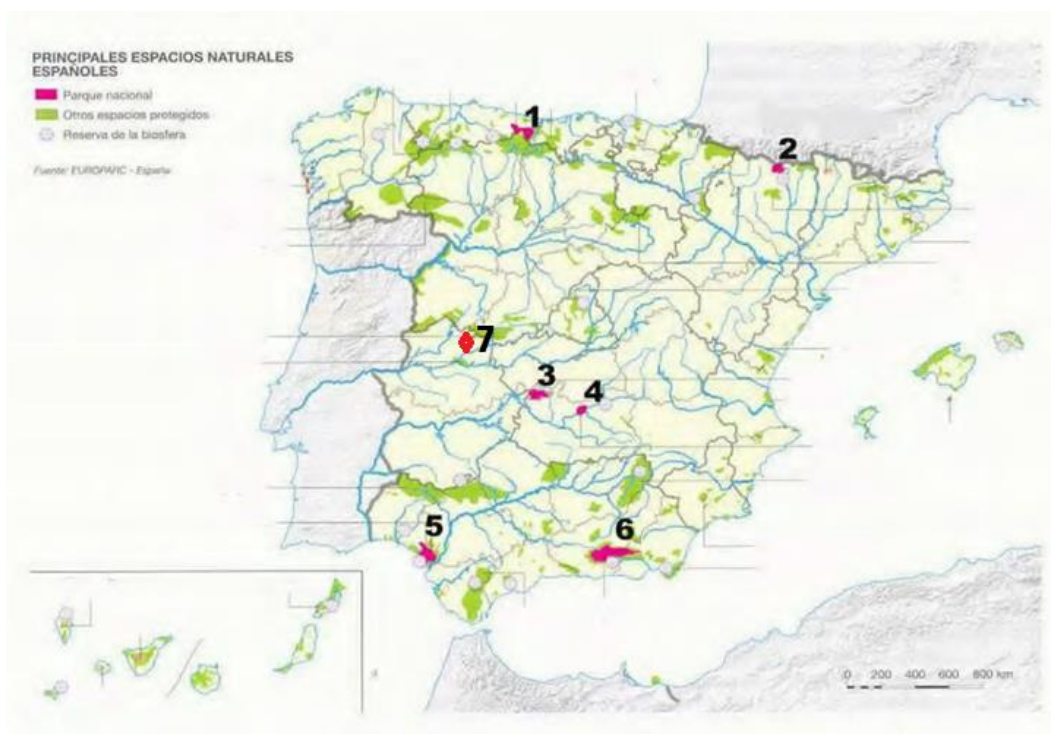
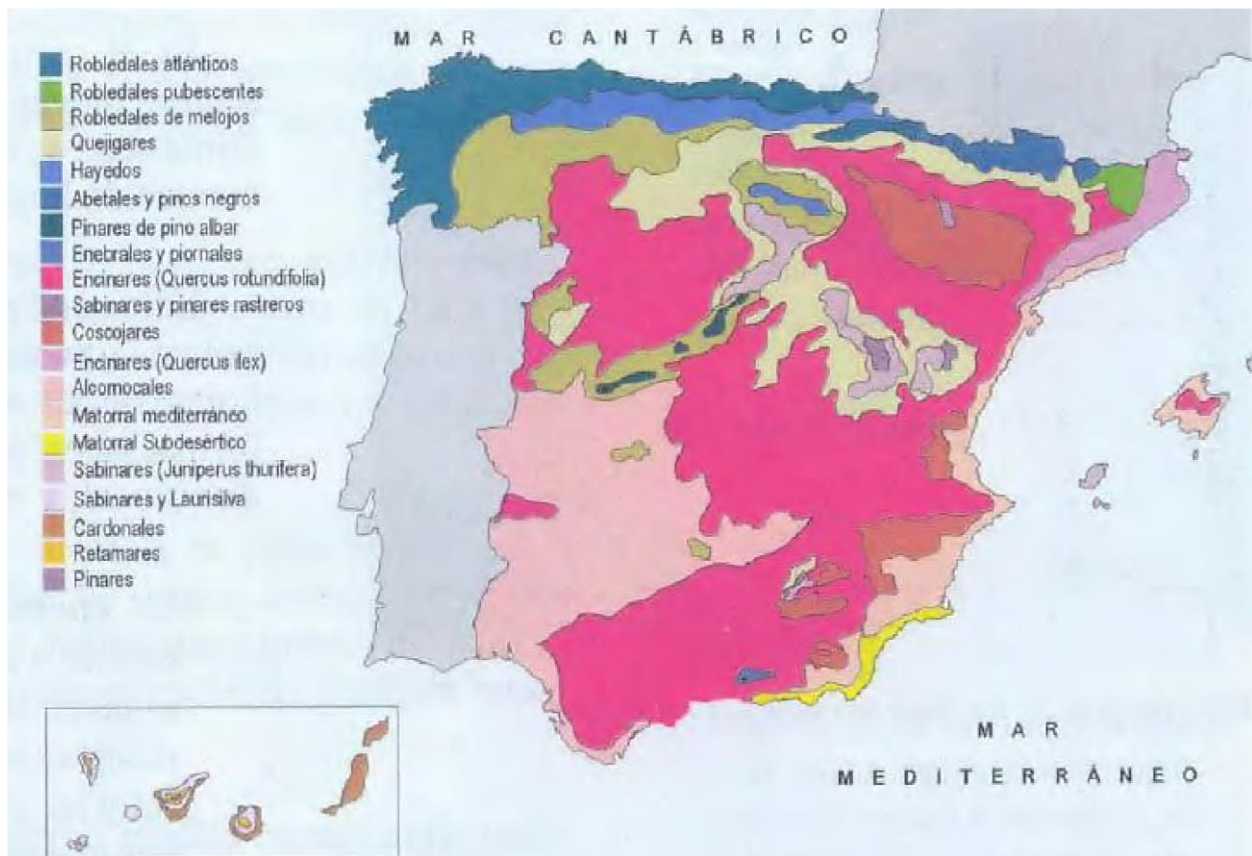
1. Diga el nombre de las provincias afectadas por la mancha más grande del mapa.

2. ¿Qué relación existe entre esta distribución y el medio natural de la zona afectada?

3. Explique que actividades económicas están relacionadas con esta especie vegetal.

2. En el siguiente mapa se representan las distintas formaciones vegetales de España. Con la información que contiene, conteste a las siguientes preguntas:

- Diga las Comunidades Autónomas sobre las que se localizan los robledales en general, y el hayedo.
- Diga las provincias sobre las que se extiende el matorral subdesértico.
- Explique la relación que existe entre la distribución de las formaciones vegetales citadas y otros elementos del medio natural.



3.El mapa muestra el sistema de espacios protegidos en España:

a) Identifique y dé nombre a los espacios protegidos con categoría de Parque Nacional, enumerados del 1 al 6.

b) Identifique,

en el mismo orden, la provincia o provincias sobre las que se encuentran.

c) Explique la importancia de su conservación y su función desde distintos puntos de vista.